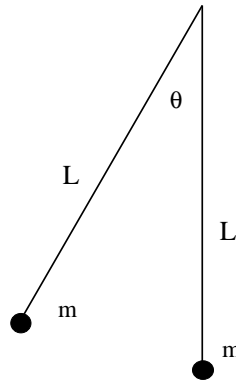


Písomka 07. 04. 2009

1. Dve telieska s rovnakými hmotnosťami m visia na nehmotných nitiach dĺžky L . Teliesko 1 vychýlime o uhol θ (pozri obrázok) a potom pustíme.
- akú rýchlosť má teliesko 1 v najnižšom bode dráhy etsne pred zrážkou s druhým telesom?
 - akú rýchlosť budú mať telieska 1 a 2 po zrážke, ak je zrážka **pružná**?
 - akú rýchlosť budú mať telieska 1 a 2 po zrážke, ak sa zrážkou zlepia dohromady ?
(3 body)



Riešenie. (a) Teleso 1 získa kinetickú energiu $E_k = \frac{1}{2}mv^2$ z potenciálnej energie $E_p = mgh$, kde $h = L - L \cos \theta = L(1 - \cos \theta)$. Preto jeho rýchlosť tesne pred zrážkou je

$$v = \sqrt{2gL(1 - \cos \theta)}. \quad (1)$$

(b) Zo zákona zachovania hybnosti plynie, že

$$mv = mv_1 + mv_2 \quad (2)$$

Pretože zrážka je pružná, zachováva sa aj kinetická energia, takže máme

$$\frac{1}{2}mv^2 = \frac{1}{2}mv_1^2 + \frac{1}{2}mv_2^2 \quad (3)$$

Z týchto rovníc dostaneme rovnice

$$v = v_1 + v_2 \quad (4)$$

a

$$v^2 = v_1^2 + v_2^2 \quad (5)$$

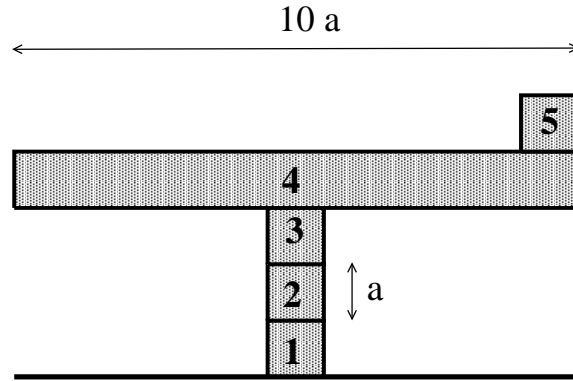
Z prvej rovnice dostaneme $v_2 = v - v_1$, a z druhej $v_2^2 = v^2 - v_1^2 = (v + v_1)(v - v_1) = (v + v_1)v_2$, takže máme $v_2 = v - v_1$ a zároveň $v_2 = v + v_1$. Riešením je $v_1 = 0$ a $v_2 = v$.

(c) Ak je zrážka nepružná, tak zákon zachovania hybnosti dáva

$$mv = (2m)v_1, \quad (6)$$

takže $v_1 = v/2$.

2. Jožko postavil z kociek vežu podľa obr. 2. Každá kocka má rozmer $a \times a \times a$, dlhá kocka má rozmer $a \times a \times 10a$. Všetky kocky sú z toho istého materiálu.
- Nájdite ťažisko veže
 - Rozhodnite, či je veža stabilná
- (3 body)



Riešenie

(a) Položme počiatok súradnicovej sústavy do stredu podstavy spodnej kocky. Potom ťažiská jednotlivých kociek sú

$$\vec{r}_1 = (0, 0, a/2), \vec{r}_2 = (0, 0, 3a/2), \vec{r}_3 = (0, 0, 5a/2), \vec{r}_4 = (0, 0, 7a/2), \vec{r}_5 = (9a/2, 0, 9a/2), \quad (7)$$

a ich hmotnosti sú $m_1 = m_2 = m_3 = m_5 = m$, ale $m_4 = 10m$. Dosadíme do rovnice pre ťažisko

$$\vec{R} = \frac{\sum m_i \vec{r}_i}{\sum m_i}, \quad (8)$$

a dostaneme

$$\vec{R} = \frac{1}{14}(9a/2, 0, 44a) = \left(\frac{9a}{28}, 0, \frac{22a}{7}\right). \quad (9)$$

(b) Horizontálna súradnica ťažiska **horných dvoch kociek** sa nachádza vo vzdialenosti $9a/22$ od stredu veže. Pretože $9/22 < 1/2$, je systém stabilný.

Poznámka. Stabilitu je treba posudzovať pre každú kocku zvlášť. Kocka 5 je OK, lebo jasne enspadne z kocky 4. V ďalšom kroku je treba posúdiť stabilitu kociek 4 a 5. Dôvod: predstavte si, že kocky 1,2 a 3 budú $1000000\times$ ťažšie ako kocka 5. Potom je ťažisko celej veže takmer totožné s ťažiskom kociek 1-3, a to nezávisle od toho, ako umiestnime kocky 4 a 5 - aj keby sme ich vysunuli úplne doprava. Posudzovať ťažisko celej veže teda nestačí.

3. Na valci s hmotnosťou M a polomerom R je namotané lano, na ktorom visí závažie hmotnosti m . V čase $t = 0$ sa závažie dá do pohybu. Akú bude mať rýchlosť v okamihu, keď kleslo do hĺbky h ?
(2 body)

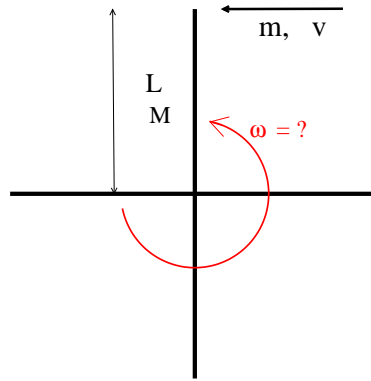
Riešenie

Potenciálna energia $E_p = mgh$ sa zmenila na kinetickú energiu valca, $E_1 = \frac{1}{2}J\omega^2$ a na kinetickú energiu telesa, $E_2 = \frac{1}{2}mv^2$. Moment zotrvačnosti valca $J = \frac{1}{2}MR^2$ a platí $v = R\omega$. Po dosadení dostaneme vzťah

$$mgh = \frac{1}{2} \left[m + \frac{1}{2}M \right] v^2, \quad (10)$$

z ktorého vyjadríme rýchlosť v .

4. Vo vodorovnej rovine leží kríž zložený zo štyroch ramien, každé rameno má dĺžku L a hmotnosť M . Do okraja jedného ramena narazí rýchlosťou v mucha hmotnosti m . Nájdite uhlovú rýchlosť otáčania sústavy kríž + mucha. (2 body)



Riešenie. Využijeme zákon zachovania momentu hybnosti. Pred zrážkou bol

$$L_0 = mvL \quad (11)$$

Po zrážke

$$L_f = 4 \times J\omega + mL^2\omega. \quad (12)$$

kde J je moment zotrvačnosti jedného ramena kríža, $J = \frac{1}{3}mL^2$. Porovnaním oboch členov dostaneme

$$\omega = \frac{m}{\frac{4}{3}M + m} \frac{v}{L}. \quad (13)$$